

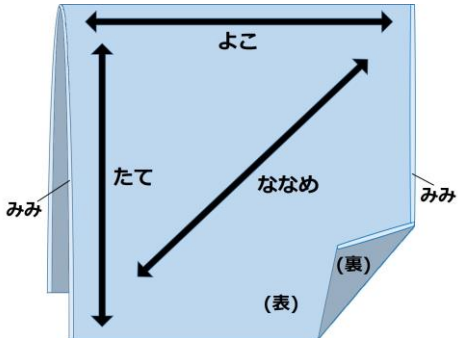


岡山県立高梁高等学校 令和4年度特別入学者選抜 口頭試問問題（公開版）

【家政科】

問題概要	資料						
<p>① きんぴらごぼうを作るとき、資料のようなごぼうの切り方の名称を答える。</p>							
<p>② ごぼうを切ったまま置いておくと、資料のように切り口の色が変化することを何と言うかを答える。</p>							
<p>③ 計量スプーンで砂糖を量る時の重量の目安を示した資料の表を見て、砂糖15gを計量スプーンの「小さじ」と「小さじ」を使ってどのように量るかを答える。スプーンは、片方だけ使っても、両方使ってもかまわない。</p>	<p style="text-align: center;">砂糖の重量の目安</p> <table border="1" style="margin-left: auto; margin-right: auto;"> <thead> <tr> <th></th> <th>小さじ 1 (5 mL)</th> <th>大さじ 1 (15 mL)</th> </tr> </thead> <tbody> <tr> <td>砂糖</td> <td>3 g</td> <td>9 g</td> </tr> </tbody> </table>		小さじ 1 (5 mL)	大さじ 1 (15 mL)	砂糖	3 g	9 g
	小さじ 1 (5 mL)	大さじ 1 (15 mL)					
砂糖	3 g	9 g					
<p>④ 身の回りのものを使って幼児の喜ぶおもちゃを作ろうとするとき、何を使って何を作るか、1つ答える。</p>							
<p>⑤ 幼稚園や保育園の幼児と一緒に遊ぶ前には準備を十分に行っておくことが大切である。事前にどのようなことをしておけばよいか、具体的に2つ答える。</p>							
<p>⑥ 持続可能な社会を目指して、環境のために毎日の生活の中で私たちができることは何があるかを具体的に2つ答える。</p>							
<p>⑦ 袋を作るために購入した平織りの布を資料のようにたて方向とよこ方向、ななめの方向に引っ張ったとき、一番伸びた方向を答える。</p>							
<p>⑧ 袋を作るとき、作るものと同じ大きさの紙を使って、布を切るが、その紙のことを何と言うかを答える。</p>							
<p>⑨ これまで、家庭科で学習したことを、実際の生活の中でどのように活かしているかを具体例を挙げて説明する。</p>							

